

نام و نام خانوادگی :

کلاس: یازدهم

نام دبیر : آقای موبران

رشته تحصیلی: معارف

شماره :

مدیریت آموزش و پرورش منطقه ۱۴

دبیرستان غیر دولتی پسرانه پیام غدیر

نیمسال اول ۱۴۰۳-۱۴۰۲

تاریخ امتحان: دی ماه ۱۴۰۲

ساعت شروع امتحان : ۸ صبح

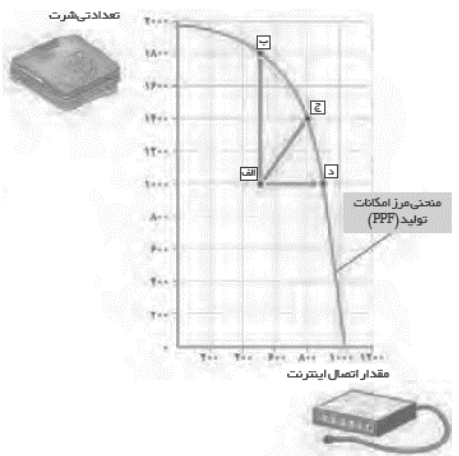
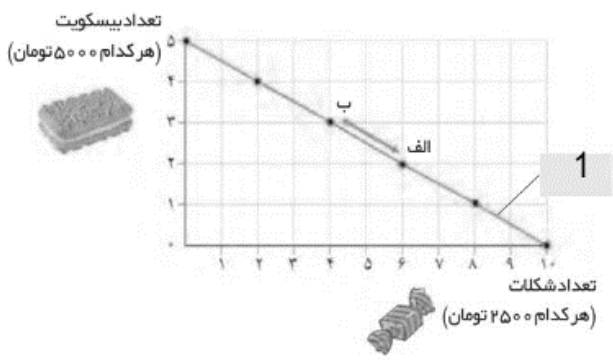
تعداد برگ سؤال : ۴ صفحه

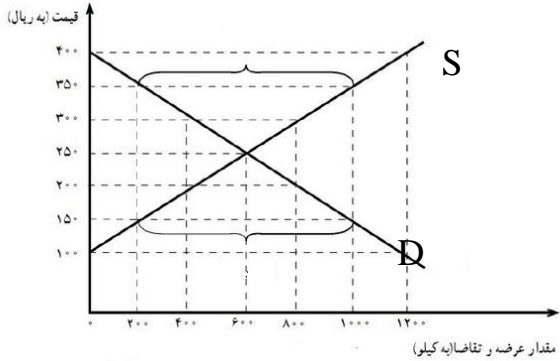
نام درس: اقتصاد

مدت امتحان : ۷۰ دقیقه



۱	<p>درست یا نادرست بودن عبارات زیر را مشخص کنید.</p> <p>الف) پراکنگیزه بودن یعنی منابع را به شکل کارایی مدیریت و هماهنگ کنیم. ( )</p> <p>ب) انگیزه لازم برای شروع کسب و کار در کارآفرینان این است که احتمال شکست وجود نداشته و حتما موفق خواهند شد. ( )</p> <p>ج) شرکت کسب و کاری است که خودش به تنهایی هویت قانونی دارد. ( )</p> <p>د) نحوه اداره تعاونی ها و شرکت ها با یکدیگر متفاوت است. ( )</p>	۱
۱/۵	<p>عبارات زیر را با کلمات مناسب تکمیل کنید .</p> <p>الف) اگر درآمد بدست آمده از هزینه های تولید کمتر باشد ..... صورت می گیرد .</p> <p>ب) یکی از ویژگی های کارآفرینان موفق ..... است یعنی نظم و انضباط و پایداری و توانایی حل مسأله را دارند .</p> <p>ج) ..... یک سند مالکیت است و نشان می دهد که دارنده آن بخشی از مالکیت شرکت را در اختیار دارد.</p> <p>د) طبق قانون ..... با افزایش قیمت ، مقدار تقاضای کالا کاهش می یابد و برعکس.</p> <p>ه) وقتی شما مقدار مشخص و محدودی برای خرج کردن دارید در این حالت می گوئیم شما یک ..... دارید.</p>	۲
۲	<p>گزینه صحیح را انتخاب کنید :</p> <p>الف) کدام گزینه صحیح است ؟</p> <p>۱) هزینه + درآمد = سود یا زیان</p> <p>۲) درآمد - هزینه = سود یا زیان</p> <p>۳) قیمت - کل محصول = درآمد</p> <p>۴) قیمت × کل محصول فروش رفته = درآمد</p> <p>ب) کالای ..... کالایی است که با افزایش درآمد ، تقاضا برای آن کاهش می شود .</p> <p>۱) کالای پست</p> <p>۲) کالای جانشین</p> <p>۳) کالای معمولی</p> <p>۴) کالای مکمل</p> <p>پ) کدام نوع از مالیات ها از مالیات ستانی مضاعف جلوگیری می کند ؟</p> <p>۱) مالیات بر مصرف</p> <p>۲) مالیات بر درآمد</p> <p>۳) مالیات بر ارزش افزوده</p> <p>۴) مالیات بر دارایی</p> <p>ت) شرکت توانیر و شرکت های خودرویی هر یک به چه دلیل بازار انحصاری هستند ؟</p> <p>۱) طبیعی - قانونی</p> <p>۲) قانونی - قانونی</p> <p>۳) طبیعی - غیرقانونی</p> <p>۴) اقتصادی - غیرقانونی</p>	۳
۰/۷۵	<p>هر یک از موارد زیر جز کدام دسته از منابع کمیاب دسته بندی می شود؟</p> <p>(منابع طبیعی - سرمایه فیزیکی - سرمایه مالی - سرمایه انسانی - نیروی کار)</p> <p>الف - باغچه خانه ای که در آن سبزی کاشته آید .</p> <p>ب - علم و دانشی که در مدرسه کسب می کنید .</p> <p>ج - ابزار آلات باغبانی که از آنها استفاده می کنید .</p>	۴

۱/۵	<p>۵ با توجه به نمودار مرز امکانات تولید به سوالات زیر پاسخ دهید.</p> <p>الف- در نقطه الف با جابه جایی به نقطه.....می توان بدون تغییر در مقدار پوشاک مقدار اتصال به اینترنت را به ۹۰۰ افزایش داد.</p> <p>ب- در نقطه د برای داشتن ۴۰۰ عدد پوشاک بیشتر باید روی مرز امکانات تولید به طرف نقطه.....حرکت کرد</p> <p>پ- هزینه فرصت حرکت از نقطه ب به نقطه د چقدر است؟</p> 	
۱	<p>۶ در رابطه با شرکت ها پاسخ دهید :</p> <p>الف- موسسه غیر انتفاعی و خیریه چه موسساتی هستند؟</p> <p>ب- اگر دارایی شرکتی به ۱۵۰۰۰۰ سهم تقسیم شود و شما ۱۵۰۰۰ سهم از آن خرید کنید مالک چند درصد شرکت شده اید؟</p>	
۰/۷۵	<p>۷ برای هر یک از موارد زیر چه نوع کسب‌وکاری مناسب تر است؟</p> <p>الف- هزینه های راه اندازی بالاتر:</p> <p>ب- آزادی عمل بیشتر و دریافت کل سود حاصل از فعالیت:</p> <p>ج- برای مأموریت هایی در زمینه های انسانی و اجتماعی مانند توسعه علمی و دینی و بهداشت و سلامت :</p>	
۱/۵	<p>۸ با توجه به نمودار زیر به سوالات پاسخ دهید :</p> <p>الف- بودجه این فرد چقدر است؟</p> <p>ب- نام خط شماره ۱ چیست؟</p> <p>ج- با حرکت از الف به ب چه تغییری در مقدار خرید وی از شکلات ایجاد می شود؟</p> 	

۲/۵	 <p>با توجه به نمودار زیر به سوالات پاسخ دهید :</p> <p>الف- در قیمت ۴۰۰ ریال با چه کمبودی روبرو هستیم ؟</p> <p>ب- محور تقاضا در نمودار کدام است؟</p> <p>پ- منظور از صعودی بودن منحنی عرضه چیست ؟</p> <p>ت- قیمت تعادلی چقدر است ؟</p> <p>ث- در قیمت ۱۵۰ ریال چقدر با کمبود عرضه روبرو هستیم ؟</p>	۹
۲	<p>در رابطه با مالیات پاسخ دهید :</p> <p>الف- سه مورد از ابزارهای تامین مالی دولت را نام ببرید .</p> <p>ب- اساس و مبنای مالیات بر درآمد چیست ؟</p> <p>ج- تعرفه های گمرکی چیست و جزو کدام دسته از مالیات ها محسوب می شود ؟</p> <p>د- مهمترین نوع مالیات بر دارایی چیست ؟</p>	۱۰
۱	<p>تفاوت مالیات مستقیم و غیر مستقیم چیست ؟</p>	۱۱
۱	<p>بودجه چیست و چه زمانی دولت با مازاد بودجه مواجه می شود ؟</p>	۱۳
۰/۷۵	<p>چرا دولت ها به تجارت با یکدیگر می پردازند ؟ ۳ دلیل</p>	۱۴
۱	<p>مشخص کنید هر کشور در تولید کدام محصول <u>مزیت نسبی</u> یا <u>مزیت مطلق</u> دارد؟</p> <p>الف- کشور برزیل به ازای هر آناناسی که تولید می کند از تولید ۱۰ موز صرف نظر می کند و کشور شیلی به ازای هر آناناس ۱۲ موز صرف نظر می کند .</p> <p>کشور : نام مزیت :</p>	۱۵

	<p>ب- بر اساس مقادیر یکسانی از منابع تولید ، کشور هند می تواند سه تن موز و کشور برزیل می تواند دو تن موز تولید کند</p> <p>کشور : نام مزیت :</p>	
۱/۵	<p>۱۶ در رابطه با تجارت بین الملل و دولت ها پاسخ دهید :</p> <p>الف- پیمان نامه های تجاری و یا نقض آنها با چه هدفی صورت می گیرد ؟</p> <p>پ- در چه صورت کشورها می توانند به استقلال و استحکام اقتصادی نزدیک شوند ؟ ۲ مورد</p>	
۲۰	<p>موفق باشید</p>	