

نام و نام خانوادگی:

کلاس:

نام دبیر: آقای

رشته تحصیلی: چهارم انسانی

شماره:

مدیریت آموزش و پرورش منطقه ۱۴

دبیرستان غیر دولتی پسرانه پیام غدیر

پایانی اول ۹۶-۹۷

تاریخ امتحان: ۹۶/۱۰/۳

نام درس: جغرافی

مدت امتحان: ۶۰ دقیقه

ساعت شروع امتحان: ۸:۳۰ صبح

تعداد برگ سؤال: ۳ صفحه



بارم		ردیف
	<p>۱- اهداف علم جغرافیا را ذکر کنید. (۱ نمره)</p> <p>۲- شاخه‌های اصلی دانش جغرافیا را نام ببرید. (۱ نمره)</p> <p>۳- سیستم را تعریف کنید. (۱ نمره)</p> <p>۴- «سنجش از دور» جزء کدام شاخه‌ی علم جغرافیا است؟ (۰/۲۵ نمره)</p> <p>۵- «ژئومورفولوژی» جزء کدام شاخه‌ی علم جغرافیا است؟ (۰/۲۵ نمره)</p> <p>۶- محیط جغرافیایی از چگونگی تعامل بین ..... و ..... شکل می‌گیرد. (۰/۵ نمره)</p> <p>۷- هر یک از مفاهیم زیر را تعریف کنید: (۲ نمره)</p> <p>الف) شناخت تکوینی</p> <p>ب) شناخت ساختاری</p> <p>پ) شناخت کارکردی</p> <p>ت) شناخت آینده‌نگر</p> <p>۸- پژوهش علمی چیست؟ (۱ نمره)</p>	



بارم		ردیف
	<p>۹- چرا رد فرضیه به معنای شکست پژوهش و پژوهشگر نیست؟ (۰/۵ نمره)</p> <p>۱۰- روش پژوهش توصیفی - موردی دارای چه مزایایی است؟ (۰/۵ نمره)</p> <p>۱۱- پژوهش کاربردی با چه هدفی انجام می‌گیرد؟ (۱ نمره)</p> <p>۱۲- فرضیه در انجام یک پژوهش به چه فعالیتی گفته می‌شود؟ (۱ نمره)</p> <p>۱۳- نقشه را تعریف کنید. (۱ نمره)</p> <p>۱۴- امروزه گردآوری اطلاعات جغرافیایی برای تهیه نقشه، به چه روش‌هایی انجام می‌گیرد؟ (۱ نمره)</p> <p>۱۵- همه‌ی نقشه‌ها دو خصوصیت مشترک دارند. این دو خصوصیت را بنویسید. (۱ نمره)</p> <p>۱۶- نقشه کاربری اراضی از انواع نقشه‌های ..... می‌باشد. (۰/۵ نمره)</p> <p>۱۷- در دهه‌های اخیر، علاوه بر عکس‌های هوایی، از ..... نیز برای تهیه نقشه استفاده می‌شود. (۰/۵ نمره)</p> <p>۱۸- انواع طبقه‌بندی نقشه‌ها را نام ببرید. (۱ نمره)</p>	



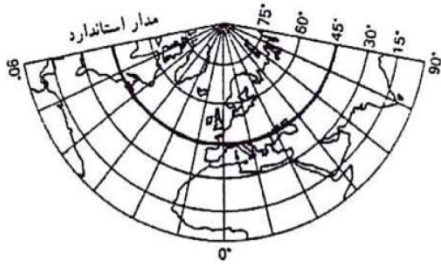
ردیف

بارم

۱۹- مقیاس بیانی را تعریف کنید. (۱ نمره)

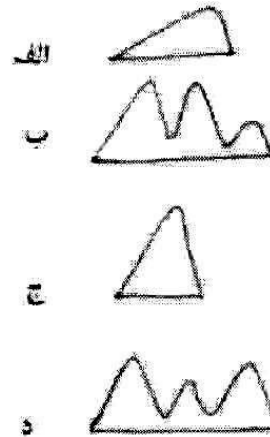
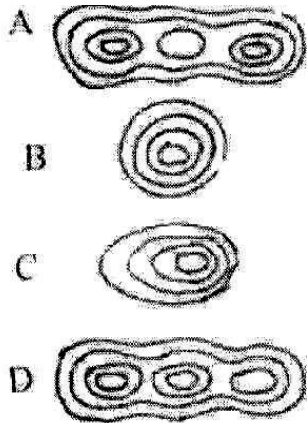
۲۰- چگونه می توان به کمک منحنی های میزان دامنه کم شیب و پرشیب را مشخص کرد؟ ( ۱ نمره)

۲۱- نوع سیستم تصویر را در مورد زیر مشخص کنید. (۵/۰ نمره)



۲۲- در کدام سیستم تصویر، مدارات و نصف النهارات به صورت خطوط متقاطع عمود بر هم دیده می شود؟ (۵/۰ نمره)

۲۳- با توجه به اشکال زیر منحنی میزان با کدام نیمرخ مرتبط می شود؟ (۱ نمره)



۲۴- منحنی میزان به شکل عدد ۸ و ۷ نمایشگر چه نوع پدیده ای است؟ (۱ نمره)