

به نام خدا

مرور مباحث درس ۳ و ۴ اقتصاد

دانش آموزان عزیز!

ابتدا مفاهیم زیر را تعریف کنید.

توجه: برای این سوال فقط تعاریف اصطلاحات خواسته شده را بنویسید. جواب دادن به سوال های روبه روی آن لازم نیست، این سوال ها فقط برای فعال کردن ذهن شما آورده شده است و اینکه شما بتوانید به خودتان امتیاز بدهید.

هزینه فرصت- آیا می دانید هزینه فرصت چیست و می توانید برای آن مثالی بزنید؟ اگر می توانید به خودتان ۲ امتیاز بدهید.

قید بودجه- آیا می دانید قید بودجه چیست و نمودار آن به شکلی ترسیم می شود؟ اگر میدانید به خودتان ۲ امتیاز بدهید.

مرز امکانات تولید (PPF)- آیا میدانید مرز امکانات تولید چیست و چه کاربرد و ویژگی هایی دارد؟ از ۰ تا ۲ به خودتان امتیاز دهید.

هزینه های دررفته- آیا میدانید هزینه های دررفته چیست و با هزینه فرصت چه تفاوتی دارد؟ می توانید مثال بزنید؟ از ۰ تا ۲ به خودتان امتیاز بدهید.

کارایی اقتصاد- آیا می دانید یک اقتصاد چه زمانی کارا است؟ از صفر تا ۲ به خودتان امتیاز بدهید.

اقتصادخوانده عزیز!

اکنون شما مفاهیم این دو فصل را مرور کردید. حال لازم است در خصوص رسم نمودار خود را محک بزنید.

در خصوص نمودارها و ترسیم آن به سوالات زیر پاسخ دهید.

الف. نمودار خط بودجه در چه فضایی ترسیم می شود؟

فضای دو عامل تولید؟ یا فضای دو کالا؟ یا فضای دو کشور؟ کدامیک؟


نقاط روی محورهای مختصات چگونه تعیین می شوند؟

برای مثال زیر نمودار خط بودجه را رسم کنید:

آقای محمدی با درآمد روزانه ۵۰ هزار تومان، می خواهد دو کالای سیب و شیرینی را برای خانواده خود تهیه کند. قیمت هر کیلو سیب ۵ هزار تومان و قیمت هر کیلو شیرینی ۱۰ هزار تومان است. نمودار خط بودجه او را ترسیم نمایید. روش محاسبه خود را بنویسید.

ب. مرز امکانات تولید در چه فضایی رسم می شود؟ فضای دو کالا یا دو کشور یا دو عامل تولید؟

با توجه به نمودار روبه رو به سوالات زیر پاسخ دهید:




نقاط روی منحنی مرز امکانات تولید چه ویژگی هایی دارد؟ تفاوت نقطه "ب" و نقطه "د" در چیست؟ (راهنمایی: باید به بحث هزینه فرصت اشاره کنید)
نقطه "ز" چه نقطه ای است؟ (کارا یا ناکارا؟ دلیل خود را مطرح کنید)

نقطه "ح" چه نقطه ای است؟ توضیح دهید

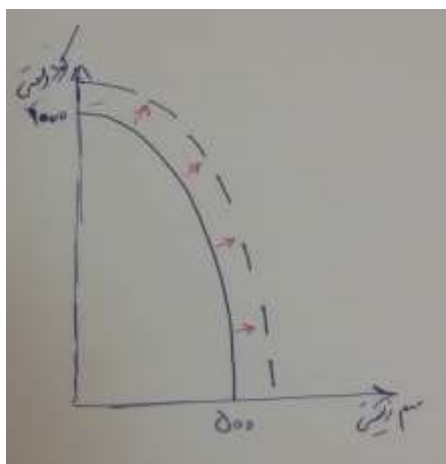
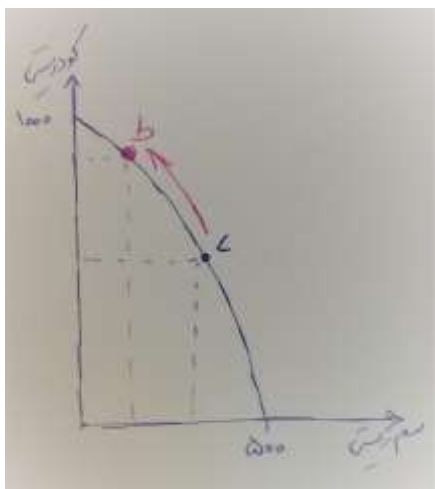
اقتصاددان عزیز!

این سوال مربوط به برای تمرین و تفکر انتهای درس ۴ هست. به دلیل اینکه شاید کمی برایتان مشکل باشد تمام نکات آن را برایتان می نویسم. پس با دقت بخوانید!



- هر کدام از شرایط زیر به کدام یک از موارد: **انتقال مرز امکانات**، جابه جا شدن در طول مرز امکانات یا بدون تغییر اشاره می کند؟
- تعداد کارگران تولیدکننده کود زیستی افزایش می یابد.
- مقدار سم زیستی که مشتریان می خواهند، افزایش می یابد.
- بعضی از کارگران خط تولید سم زیستی، در حال حاضر بیکارند.
- منابع و مواد اولیه جدید این اجازه را به شرکت می دهند تا هر دو محصول، به مقدار بیشتری تولید شود.

▪ یک فناوری جدید، منابع موجود برای تولید هر دو محصول را افزایش داده است.
 پاسخ: زمانی که تعداد کارگران تولید کننده کود افزایش یابد تولید به سمت این قسمت حرکت می کند و روی منحنی امکانات تولید به سمت بالا منتقل می شویم. (تصویر روبه رو) مثلاً اگر ابتدا در نقطه "د" باشیم با افزایش تعداد کارگران در قسمت کود زیستی به نقطه ط می رویم.



پاسخ: اگر مقدار سم زیستی که مشتریان می خواهند افزایش یابد روب منحنی امکانات تولی تغییری ایجاد نمی کند. چون در خواست مشتری ربطی به تولید کننده و نحوه تولید آن ندارد.

پاسخ: زمانی کارگران خط تولید سم بیکار می شوند در واقع تولید کود افزایش میابد و روی این مرز به سمت "د" یا "ح" یا "ب" حرکت میکنیم. (روی نمودار اصلی)

پاسخ: هر دو این موارد زیر به این نکته اشاره دارند که مرز امکانات تولید به سمت راست و بیرون منقل می شود.

- منابع و مواد اولیه جدید این اجازه را به شرکت می دهند تا هر دو محصول، به مقدار بیشتری تولید شود.
- یک فناوری جدید، منابع موجود برای تولید هر دو محصول را افزایش داده است.

اقتصاد خوانده عزیز، جاهای خالی را پر کنید:

برای تولید کالاها و خدمات، باید به سراغ برویم. منابع کمیاب تولید، اولین امکانات ما برای تولید کالاها و خدمات هستند و می توان آنها را نیز دانست. منابع گاهی، مثل چوبی که نجار روی آن کار میکند یا دانه گندمی که کشاورز آن را در زمین می کارد؛ گاهی، مثل نیروی کاری که در کارگاه مشغول به کار است و گاهی منابع تولید،؛ مثل پولی که شخص برای راه اندازی یک کارگاه تولیدی در نظر گرفته است.

اقتصاد خوانده عزیز، چه عواملی باعث بروز رفتارهای غیرمنطقی می شود؟
یک مورد از الگوهای اقتصادی را نام ببرید، یک مثال ذکر کرده و آن را در قالب آن مثال ترسیم نمایید.

اقتصاد خوانده عزیز! نموداری برای مرز امکانات تولید یک کشور رسم کنید! دو کالای گندم و خودرو تولید می کند. در نمودار صفحه ۷۳ به جای فرض کنید کشوری صرفاً مقدار پنیر در محور عمودی، مقدار گندم (به کیلوگرم) و به جای مقدار ماست در محور افقی، تعداد خودرو را قرار دهید. با استفاده از همان ارقام جدول صفحه ۷۳، مرز امکانات تولید را برای این کشور رسم کنید.